

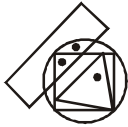
Dot Situation

————— *Reasoning with Mohit Kawatra*

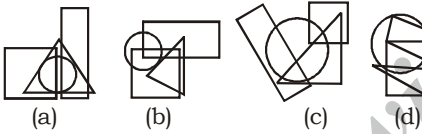
Direction (1-20): In the following questions, one or more dots is/are placed in the question figure. This figure is followed by four alternatives (a), (b), (c) and (d). One out of these four options contains region (s) common to circle, Square and triangle, similar to that marked by the dot in question figure. Choose that figure.

निर्देश (1-20): निम्नलिखित प्रश्नों में, प्रश्न आकृति में एक या अधिक बिंदु रखे गए हैं। इस आंकड़े के बाद चार विकल्प (a), (b), (c) और (d) हैं। इन चार विकल्पों में से एक में वृत्त, वर्ग और त्रिभुज के उभयनिष्ठ क्षेत्र (क्षेत्र) शामिल हैं, जो प्रश्न आकृति में बिंदु द्वारा चिह्नित के समान हैं। वह आंकड़ा चुनें।

1. Question figure/प्रश्न आकृति



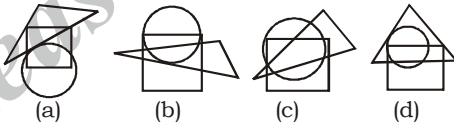
Answer figures



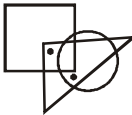
2. Question figure/प्रश्न आकृति



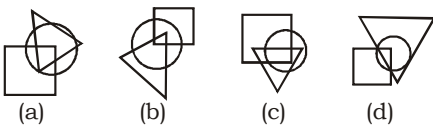
Answer figures/उत्तर आकृतियाँ



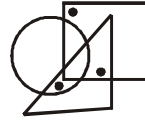
3. Question figure/प्रश्न आकृति



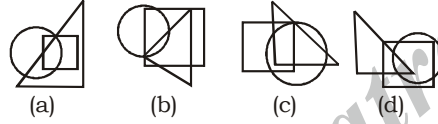
Answer figures/उत्तर आकृतियाँ



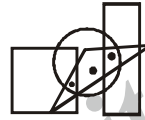
4. Question figure/प्रश्न आकृति



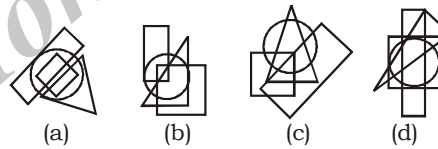
Answer figures/उत्तर आकृतियाँ



5. Question figure/प्रश्न आकृति



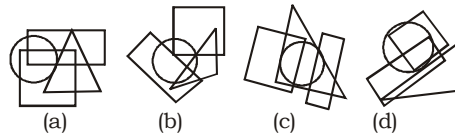
Answer figures/उत्तर आकृतियाँ



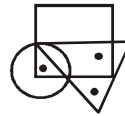
6. Question figure/प्रश्न आकृति



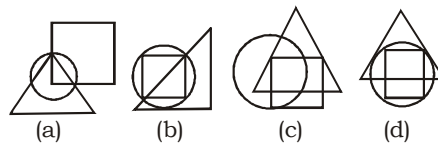
Answer figures/उत्तर आकृतियाँ



7. Question figure/प्रश्न आकृति



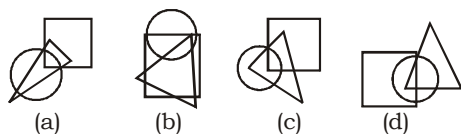
Answer figures/उत्तर आकृतियाँ



8. Question figure/प्रश्न आकृति



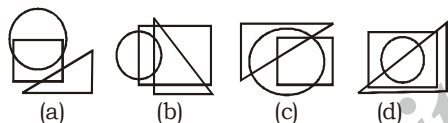
Answer figures/उत्तर आकृतियाँ



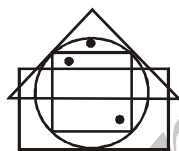
9. Question figure/प्रश्न आकृति



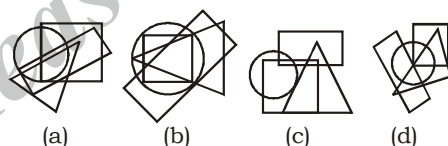
Answer figures/उत्तर आकृतियाँ



10. Question figure/प्रश्न आकृति



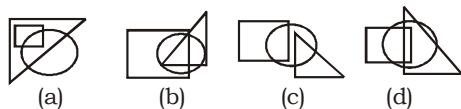
Answer figures/उत्तर आकृतियाँ



11. Question figure/प्रश्न आकृति



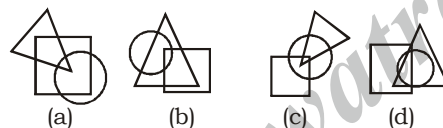
Answer figures/उत्तर आकृतियाँ



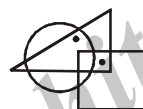
12. Question figure/प्रश्न आकृति



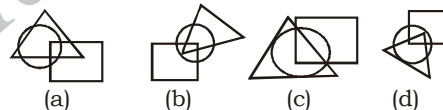
Answer figures/उत्तर आकृतियाँ



13. Question figure/प्रश्न आकृति



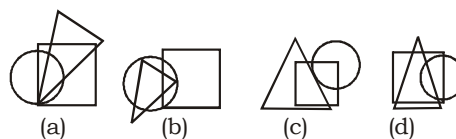
Answer figures/उत्तर आकृतियाँ



14. Question figure/प्रश्न आकृति



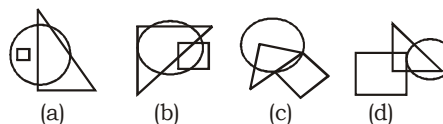
Answer figures/उत्तर आकृतियाँ



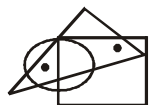
15. Question figure/प्रश्न आकृति



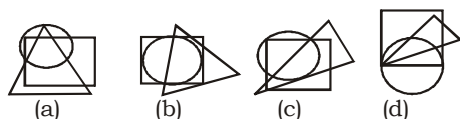
Answer figures/उत्तर आकृतियाँ



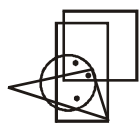
16. Question figure/प्रश्न आकृति



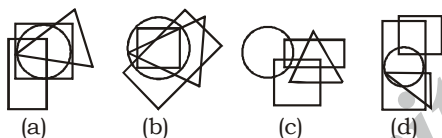
Answer figures/उत्तर आकृतियाँ



17. Question figure/प्रश्न आकृति



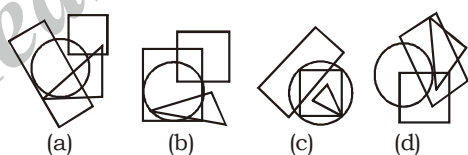
Answer figures/उत्तर आकृतियाँ



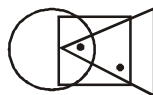
18. Question figure/प्रश्न आकृति



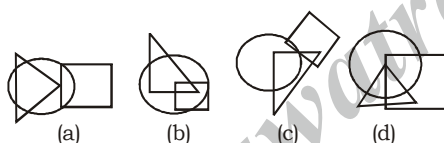
Answer figures/उत्तर आकृतियाँ



19. Question figure/प्रश्न आकृति



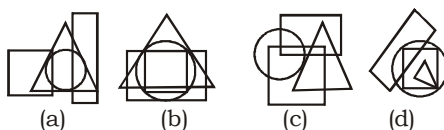
Answer figures/उत्तर आकृतियाँ



20. Question figure/प्रश्न आकृति



Answer figures/उत्तर आकृतियाँ

**Answer Key**

1. (d) 2. (c) 3. (c) 4. (c) 5. (c)
 6. (a) 7. (c) 8. (d) 9. (c) 10. (b)
 11. (a) 12. (c) 13. (a) 14. (b) 15. (b)
 16. (a) 17. (b) 18. (d) 19. (d) 20. (a)