


1. Which of the following answer figures cannot occur when the question figure given below is rotated?
दी गई प्रश्न आकृति को घुमाने पर कौन सी उत्तर आकृति प्राप्त नहीं हो सकती ?

Question figure/प्रश्न आकृति



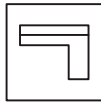
Answer figures/उत्तर आकृतियाँ




(a)



(b)



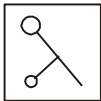
(c)



(d)

2. The question figure given below, may be turned in any direction, but not be picked up and turned over. From the answer figures find out the correct figure which could be formed by rotating the question figure ?
नीचे दी गई प्रश्न- आकृति किसी भी दिशा में मोड़ी जा सकती है, परंतु इसे उठाकर उलटा नहीं किया जा सकता। उस सही आकृति की पहचान करें जो प्रश्न - आकृति को चक्राकार घुमाने पर प्राप्त होगी ?


Question figure/प्रश्न आकृति



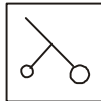
Answer figures/उत्तर आकृतियाँ



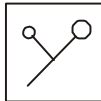
(a)



(b)



(c)



(d)

3. In the following question, find out how will the question figure look like after rotation of 180° ?

निम्नलिखित प्रश्न में ज्ञात कीजिए कि प्रश्न आकृति 180° घुमाने (घूर्णन) के बाद कैसी दिखाई देगी?

Question figure/प्रश्न आकृति



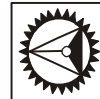
Answer figures/उत्तर आकृतियाँ



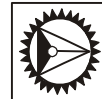
(a)



(b)



(c)

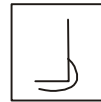


(d)

4. The question figure given below, may be turned in any direction, but not be picked up and turned over. From the answer figures find out the correct figure which could be formed by rotating the question figure ?

नीचे दी गई प्रश्न- आकृति किसी भी दिशा में मोड़ी जा सकती है, परंतु इसे उठाकर उलटा नहीं किया जा सकता। उस सही आकृति की पहचान करें जो प्रश्न - आकृति को चक्राकार घुमाने पर प्राप्त होगी ?

Question figure/प्रश्न आकृति



Answer figures/उत्तर आकृतियाँ



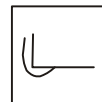
(a)



(b)



(c)



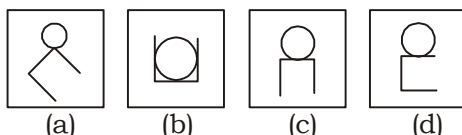
(d)

5. There is a ball and a rectangular jar. Four positions are shown below to keep them balanced. Which of the following will not get balanced easily?
यहाँ एक गेंद और एक आयताकार जार है। उन्हें संतुलित रखने के लिए चार स्थितियाँ दर्शाई गई हैं। निम्नलिखित में से कौन-सी आकृति आसानी से संतुलित नहीं होगी ?

Question figures/प्रश्न आकृतियाँ



Answer figures/उत्तर आकृतियाँ



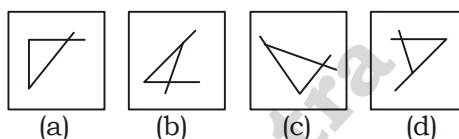
6. The question figure given below may be turned in any direction, but not be picked up and turned over. Find out the correct figure which could be formed by rotating the question figure?

नीचे दी गई प्रश्न- आकृति किसी दिशा में मोड़ी जा सकती है लेकिन इसे उठाकर पलटा नहीं जा सकता। सही आकृति खोजें जो प्रश्न आकृति को आवर्तित करके बनायी जा सके।

Question figure/प्रश्न आकृति



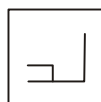
Answer figures/उत्तर आकृतियाँ



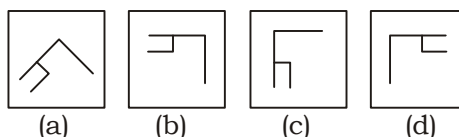
7. The question figure given below may be turned in any direction but not be picked up and turned over find out the correct figure which could be formed by rotating the question figure.

नीचे दी गई प्रश्न आकृति किसी भी दिशा में मोड़ी जा सकती है लेकिन इसे उठाकर पलटा नहीं जा सकता। सही आकृति खोजें जो प्रश्न आकृति को आवर्तित करके बनायी जा सके।

Question figure/प्रश्न आकृति



Answer figures/उत्तर आकृतियाँ



Answer-Key

1. (c)	2. (d)	3. (b)	4. (d)	5. (a)	6. (a)	7. (d)	
--------	--------	--------	--------	--------	--------	--------	--